

Frist for innlevering: *tirsdag 3. februar*

## ØVING 2

### Oppgave 1 Krumningsegenskapar for eindimensjonale energieigenfunksjonar

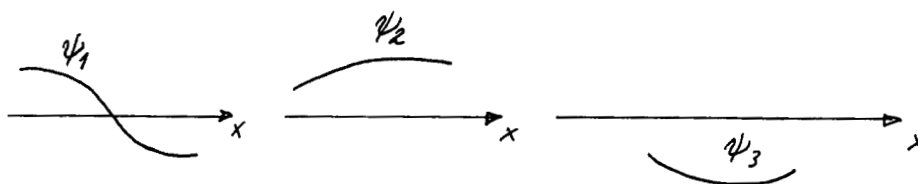
Ein partikkel med masse  $m$  bevegar seg i eit eindimensjonalt potensial  $V(x)$ . Partikkelen er i ein tilstand som svarer til ei reell løysing av den tidsuavhengige Schrödingerlikninga,  $\hat{H}\psi(x) = E\psi(x)$ , med energien  $E$ . I ein dimensjon er Hamiltonoperatoren

$$\hat{H} = \hat{K} + V = -\frac{\hbar^2}{2m} \frac{d^2}{dx^2} + V(x). \quad (0.1)$$


Vi kan difor omskrive Schrödingers tidsuavhengige likning på forma

$$-\frac{\hbar^2}{2m} \frac{d^2\psi(x)}{dx^2} = [E - V(x)]\psi(x) \quad \text{dvs.} \quad \frac{d^2\psi/dx^2}{\psi} = \frac{2m}{\hbar^2} [V(x) - E]. \quad (0.2)$$

(i) I *klassisk tillatne område*, det vil seie når  $E > V(x)$  er altså krumninga  $d^2\psi/dx^2$  negativ når  $\psi$  er positiv og vice versa; i begge tilfelle er den *relative* krumninga  $\psi''/\psi$  negativ. Vi ser at dette tyder at  $\psi$  må *krumme mot aksen*. Døme:



(ii) I *klassisk forbode område*, det vil seie når  $E < V(x)$  er krumninga  $d^2\psi/dx^2$  positiv når  $\psi$  er positiv og vice versa; i begge tilfelle er den *relative* krumninga  $\psi''/\psi$  positiv.  $\psi$  vil da *krumme bort frå aksen*. Døme:



(iii) I eit klassisk vendepunkt, der  $V(x) - E$  skiftar forteikn, ser vi av formelen ovanfor at den relative krumninga skiftar fortein. Er  $V(x) = E$  i eit endelig område blir  $\psi'' = 0$  i dette området. Ved integrasjon ser ein at  $\psi$  sjøl er ein lineær funksjon,  $\psi = Ax + B$ , i dette området.

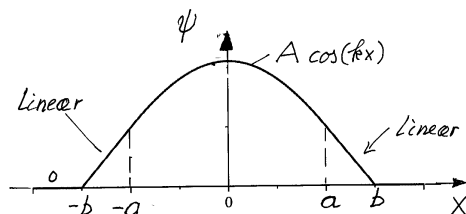
Vi skal sjå at krumninga er eit veldig nyttig redskap når ein skal studere energieigenfunksjonar.

a) Grunntilstanden for ein harmoniske oscillator med potensialet  $V(x) = \frac{1}{2}kx^2 \equiv \frac{1}{2}m\omega^2x^2$  er

$$\psi_0(x) = C_0 e^{-m\omega x^2/2\hbar}. \quad (0.3)$$

Energien  $E_0$  for grunntilstanden er lik  $\frac{1}{2}\hbar\omega$ . Kontrollér at  $\psi_0(x)$  oppfører seg slik reglane ovanfor seier. Sjekk spesielt at den relative krumninga skiftar forteikn for dei  $x$ -verdiane som svarer til dei *klassiske* vendepunkta, det vil seie der  $E_0 = V(x)$ .

b)

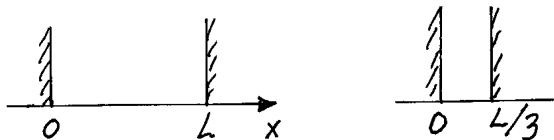


Figuren viser grunntilstanden  $\psi$  for eit eindimensjonalt potensial på forma

$$V(x) = \begin{cases} \infty & \text{for } |x| > b, \\ 0 & \text{for } a < |x| < b, \\ V_0 & \text{for } |x| < a. \end{cases}$$

I områda  $a < |x| < b$  er  $\psi$  ein lineær funksjon. Bruk dette til å finne energien  $E$  for denne tilstanden. Kva forteikn har  $V_0$ ? Hint: bruk figuren til å finne den relative krumninga i området  $|x| < a$ .

## Oppgave 2 Ymse



a) For ein partikkel med masse  $m$  i eit boks-potensial med breidde  $L$  er energieigenfunksjonen for grunntilstanden  $\psi_1(x) = \sqrt{2/L} \sin(\pi x/L)$ . Kva skjer med energinivået  $E_1$  for grunntilstanden i eit boks-potensial når breidda  $L$  av boksen reduserast til ein tredel av den opprinnelege?

b) For ein gjeven bølgefunksjon  $\psi(x)$  kan vi vha forventningsverdipostulatet rekne ut

$$\langle x \rangle = \int \psi^* x \psi dx, \quad \langle x^2 \rangle = \int \psi^* x^2 \psi dx, \quad (0.4)$$

$$\langle p_x \rangle = \int \psi^* \hat{p}_x \psi dx \quad \langle p_x^2 \rangle = \int \psi^* \hat{p}_x^2 \psi dx, \quad (0.5)$$

der  $\hat{p}_x = -i\hbar \frac{d}{dx}$ . Med desse uttrykka kan vi rekne ut usikkerheitene  $\Delta x = \sqrt{\langle x^2 \rangle - \langle x \rangle^2}$  og  $\Delta p_x = \sqrt{\langle p_x^2 \rangle - \langle p_x \rangle^2}$ . Med bølgefunksjonen  $\psi_1(x) = \sqrt{2/L} \sin(\pi x/L)$  kan ein lett vise at  $\langle x \rangle = \frac{L}{2}$  og  $\langle x^2 \rangle = \frac{L^2}{6} (2 - \frac{3}{\pi^2})$ . Rekn ut  $\langle p_x \rangle$  og  $\langle p_x^2 \rangle$ . Bruk dette til å rekne ut  $\Delta x$  og  $\Delta p$ . Som du ser er usikkerheiten til  $x$  proporsjonal med  $L$  og usikkerheiten til  $p$  omvendt proporsjonal med  $L$ . Rekn til slutt ut produktet  $\Delta x \Delta p$ . Viss du har rekna rett, får du  $\Delta x \Delta p > \frac{1}{2}\hbar$ . Dette er eit døme på eit generelt resultat i kvantemekanikken, nemleg

Heisenberg *uskarphetsrelasjon*. Ein kan vise at uansett korleis bølgefunksjonen er, kan usikkerhetsproduktet aldri  $\Delta x \Delta p$  aldri bli mindre enn  $\frac{1}{2}\hbar$ :

$$\Delta x \Delta p \geq \frac{1}{2}\hbar. \quad (0.6)$$

I bølgeteori lærer ein at jo kortare ei bølgeggruppe eller bølgepakke

$$f(x) = \frac{1}{\sqrt{2\pi}} \int_{-\infty}^{\infty} g(k) e^{ikx} dk$$

er, desto større blir usikkerheiten  $\Delta k$  i bølgeteoret. Med  $k = p_x/\hbar$  kan vi og seie at jo kortare ei bølgeggruppe

$$\psi(x) = \frac{1}{\sqrt{2\pi\hbar}} \int_{-\infty}^{\infty} \phi(p_x) e^{ip_x x/\hbar} dp_x$$

er, desto større må usikkerheiten  $\Delta p_x$  i impulsen ( $\Delta p_x = \hbar \Delta k$ ) vere. Omvendt kan vi alltid gjere  $\Delta p_x$  liten ved å velge ein "smal" funksjon  $\phi(p_x)$  eller  $g(k)$ , men dette vil da "straffe seg" ved at bølga  $\psi(x)$  blir svært lang, dvs usikkerheiten  $\Delta x$  i partikkelens posisjon blir stor.

Uskarphetsrelasjonen ovanfor er eit spesialtilfelle av ein meir generell uskarphetsrelasjon for to fysiske observable  $F$  og  $G$ ,

$$(\Delta F)_\Psi (\Delta G)_\Psi \geq \frac{1}{2} | \langle i[\hat{F}, \hat{G}] \rangle_\Psi | \quad \forall \text{ (kvadratisk integrerbare) } \Psi.$$

Frå den siste relasjonen framgår det at Heisenbergs uskarphetsrelasjon er ein konsekvens av at  $x$  og  $\hat{p}_x$  ikkje kommuterer:

$$[x, \hat{p}_x] = i\hbar.$$

Det er denne relasjonen som gjer at observablane  $x$  og  $p_x$  ikkje kan ha skarpe verdiar samtidig.

Eit anna døme på observable som ikkje kan ha skarpe verdiar samtidig, er komponentane  $L_x = yp_z - zp_y$ ,  $L_y = zp_x - xp_z$  og  $L_z = xp_y - yp_x$  av dreieimpulsen  $\mathbf{L} = \mathbf{r} \times \mathbf{p}$  for ein partikkel. Dette er som vi skal sjå viktige observable for system som beskrivast vha kulesymmetriske potensial, som t.d.  $H$ -atomet.

### c) $\langle V \rangle$ og $\langle K \rangle$ for grunntilstanden i hydrogen

I forelesningane og i øving 1 har vi sett at grunntilstanden for hydrogenatomet er

$$\psi_1 = (\pi a_0^3)^{-1/2} e^{-r/a_0}$$

og har energien  $E_1 = -\frac{1}{2}\alpha^2 m_e c^2$  ( $\approx -13.6$  eV). Vis at forventningsverdiene av den kinetiske og den potensialle energien i denne tilstanden er

$$\langle V \rangle = 2E_1 (\approx -27.2) \text{ eV} \quad \text{og} \quad \langle K \rangle = -E_1 (\approx 13.6) \text{ eV}.$$

Du kan få bruk for integralet

$$\int_0^\infty x^n e^{-\alpha x} dx = \frac{n!}{\alpha^{n+1}}.$$

og

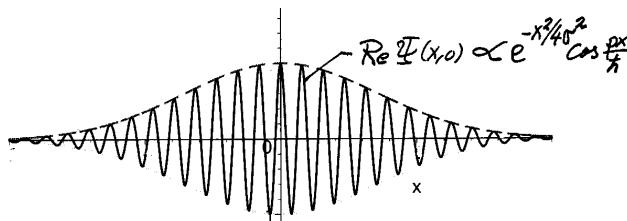
$$\Delta x \cdot \Delta p_x \geq \frac{1}{2}\hbar \quad (\text{Heisenbergs uskarphetsrelasjon}),$$

d) Estimat av  $\langle K \rangle$  Gjør eit enkelt *overslag* av  $\langle K \rangle = \frac{1}{2m} \langle p_x^2 + p_y^2 + p_z^2 \rangle$  for hydrogentilstanden  $\psi_1$ , ved hjelp av uskarpehetsrelasjonen og samanlikn med formelen ovanfor. Hint: Anta at  $\Delta p_x \approx \frac{1}{2} \hbar / a_0$  osv, og bruk at  $\langle p_x \rangle = \langle p_y \rangle = \langle p_z \rangle = 0$ . Merk at  $(\Delta p_x)^2 = \langle p_x^2 \rangle - \langle p_x \rangle^2$ . Det kan hende du får bruk for å vise at Rydberg-energien  $\frac{1}{2} \alpha^2 m_e c^2$  også kan skrives på forma  $\hbar^2 / (2m_e a_0^2)$ .

### Oppgave 3

I denne oppgåva ser vi på eit system som ganske enkelt består av ein fri partikkel med masse  $m$ . Ein tenkjer seg at dette systemet (eller eigentleg eit *ensemble* av slike) blir preparert i ein tilstand med bølgefunksjon ved  $t = 0$ <sup>1</sup>

$$\Psi(x, 0) = (2\pi\sigma^2)^{-1/4} e^{-x^2/4\sigma^2} e^{ip_0x/\hbar}.$$



Merk at bølgegruppa  $\Psi(x, 0)$  er ei harmonisk planbølge modulert med ein Gauss-faktor. Gauss-faktoren sørger for at  $\Psi(x, 0)$  er kvadratisk integrerbar (i motsetning til den harmoniske planbølga  $\exp(ip_0x/\hbar)$  som vi har i de Broglie-bølgjene). Ifølgje postulat B (“tilstandspostulatet”) inneheld funksjonen  $\Psi(x, 0)$  all den informasjonen om ensemblet (ved  $t = 0$ ) som det er mogleg å skaffe seg. Som eit ledd i arbeidet med å “knekke den kvantemekaniske koden” skal vi nå sjå korleis vi kan hente ut denne informasjonen

a) Argumentér for at forventningsverdien av posisjonen  $x$  for denne tilstanden ved  $t = 0$  er lik null, og for at usikkerheiten  $\Delta x$  er uavhengig av parameteren  $p_0$ . Hint: Sjå på sannsynlegheitstettheiten  $|\Psi(x, 0)|^2$ . (Moralen er her at det lønner seg med litt oversikt; istadenfor berre å rekne slavisk i veg.)

b) *Rekn ut  $\Delta x$* . Hint: For å spare litt arbeid med integrasjonene er det kanskje en fordel å innføre  $\alpha = 1/2\sigma^2$ , og merke seg Gauss-integrala

$$I_0(\alpha) \equiv \int_{-\infty}^{\infty} e^{-\alpha x^2} dx = \sqrt{\frac{\pi}{\alpha}}, \quad I_2(\alpha) \equiv \int_{-\infty}^{\infty} x^2 e^{-\alpha x^2} dx = -\frac{\partial I_0}{\partial \alpha} = \sqrt{\pi} \cdot \frac{1}{2} \alpha^{-3/2}, \quad \text{osv.}$$

<sup>1</sup>*Korleis* ein skal gå fram eksperimentelt for å prepare eit einsemble av frie partiklar slik at initialtilstandent svarer til bølgefunksjonen  $\Psi(x, 0)$  er kanskje ikkje heilt lett å førestille seg. I kvantemekanisk *teori* er det vanleg å anta at ein i prinsippet kan prepare einkvar initialtilstand for det aktuelle ensemblet utan å bekymre seg for mykje om det reint praktiske. La oss likevel gjere eit forsøk. Vi har ein “partikkel-kanon” som skyt ut ein partikkel som forlet kanonen ( $x \approx 0$ ) ved  $t = 0$ , med impuls  $\approx p_0$ . For å få eit *ensemble* av slike partikla må vi gjenta eksperimentet mange gangar og nullstille klokka etter kvar avfyring. Alternative kan vi sende ut ein skur av partiklar samtidig ved  $t = 0$ . Eit slikt ensemble kan vi representere ved ein bølgefunksjon i form av ei bølgegruppe som følgjer partikkelskuren.

Kva er den fysiske tolkninga av  $\langle x \rangle$  og  $\Delta x$ , når ein gjer ein serie målingar av posisjonen  $x$ ?

c) Dersom ein veljer parameteren  $\sigma$  veldig stor, er  $\Psi(x, 0)$  praktisk talt ei rein harmonisk planbølgje. Ei harmonisk planbølgje  $\exp(ip_0x/\hbar)$  svarer som vi husker til ein skarpt definert impuls,  $p_x = p_0$ . Kva *trur* du ut frå dette vil skje med forventningsverdien  $\langle p_x \rangle$  og usikkerheiten  $\Delta p_x$  når  $\sigma$  vokser mot uendeleg?

d) Funksjonen  $\Psi(x, 0)$  gjev også eit *nøyaktig svar* på spørsmåla i c): Bruk forventningsverdi-postulatet (C) til å *rekne ut*  $\langle p_x \rangle$  og  $\Delta p_x$  (for vilkårlig  $p_0$ ), og vis at usikkerhetsproduktet  $\Delta x \cdot \Delta p_x$  faktisk har den minste verdien det kan ha ifølgje Heisenbergs uskarphetsrelasjon, for alle  $\sigma$  og  $p_0$ .

[Hint: Vis at

$$\begin{aligned}\hat{p}_x \Psi(x, 0) &= (p_0 + i\hbar\alpha x)\Psi(x, 0) \quad \text{og} \\ \hat{p}_x^2 \Psi(x, 0) &= [(p_0 + i\hbar\alpha x)^2 + \hbar^2\alpha]\Psi(x, 0), \quad \alpha = 1/2\sigma^2.\end{aligned}$$

Med desse uttrykka vil du sjå at dei integrala som dukkar opp under utrekninga av  $\langle p_x \rangle$  og  $\langle p_x^2 \rangle$  er normeringsintegralet samt integrala for  $\langle x \rangle$  og  $\langle x^2 \rangle$ , som vi alt har rekna ut. Her er det altså igjen lurt å skaffe seg litt matematisk oversikt og ikkje rekne i veg.

Kva er den fysiske tolkninga av  $\langle p_x \rangle$  og  $\Delta p_x$ , når ein gjer serie målingar av impulsen  $p_x$ ?  $\langle p_x \rangle$  og  $\Delta p_x$  har samanheng med *sannsynlegheitsfordelinga av impulsen  $p_x$*  i den aktuelle tilstanden. Kan ein tenkje seg at ein kan finne sannsynlegheitsfordelinga for impulsen frå bølgefunksjonen  $\Psi(x, 0)$ ?

e) Oppførselen til systemet vårt for  $t > 0$  er gjeven ved Schrödingerlikninga for ein fri partikkel. Bølgjegruppa vil da bevege seg. Kva gruppehastighet *trur* du at bølgegruppa  $\Psi(x, t)$  får?